



Naam: \_\_\_\_\_

Datum: \_\_\_\_\_



Klas: \_\_\_\_\_

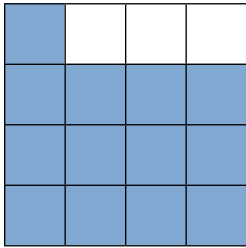
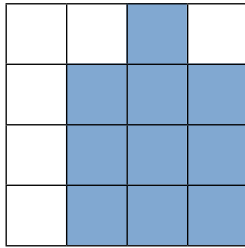
Klasnummer: \_\_\_\_\_

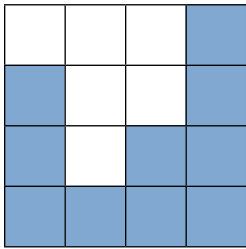
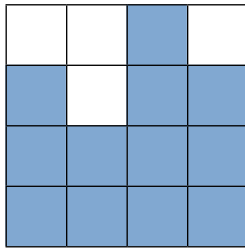
- 1  Bekijk de blokkenbouwsels.
- Teken bij elk bouwsel het vooraanzicht, de zijaanzichten en het bovenaanzicht.  
Er zijn geen blokken verborgen.

	vooraanzicht	rechterzijaanzicht
	bovenaanzicht	linkerzijaanzicht

	vooraanzicht	rechterzijaanzicht
	bovenaanzicht	linkerzijaanzicht

- 2**  Bekijk het bovenaanzicht met de hoogtegetallen.  
 Teken het vooraanzicht en het gevraagde zijaanzicht.

bovenaanzicht met hoogtegetallen <table border="1" style="margin: 10px auto; border-collapse: collapse;"> <tr><td> </td><td> </td><td> </td><td> </td></tr> <tr><td>3</td><td>3</td><td>3</td><td> </td></tr> <tr><td>4</td><td>2</td><td>2</td><td> </td></tr> <tr><td>3</td><td>1</td><td>1</td><td>3</td></tr> </table>					3	3	3		4	2	2		3	1	1	3	vooraanzicht 	linkerzijaanzicht 
3	3	3																
4	2	2																
3	1	1	3															

bovenaanzicht met hoogtegetallen <table border="1" style="margin: 10px auto; border-collapse: collapse;"> <tr><td>2</td><td>1</td><td>1</td><td>3</td></tr> <tr><td>2</td><td>1</td><td>1</td><td>4</td></tr> <tr><td>2</td><td>1</td><td>2</td><td>2</td></tr> <tr><td>3</td><td>1</td><td>1</td><td> </td></tr> </table>	2	1	1	3	2	1	1	4	2	1	2	2	3	1	1		vooraanzicht 	rechterzijaanzicht 
2	1	1	3															
2	1	1	4															
2	1	2	2															
3	1	1																

- 3**  Hoeveel blokken heb je ten minste nodig om van elk bouwsel een kubus te maken?

bovenaanzicht met hoogtegetallen <table border="1" style="margin: 10px auto; border-collapse: collapse;"> <tr><td>0</td><td>2</td></tr> <tr><td>2</td><td>1</td></tr> </table> Je hebt nog <b>3</b> blokken nodig.	0	2	2	1	bovenaanzicht met hoogtegetallen <table border="1" style="margin: 10px auto; border-collapse: collapse;"> <tr><td>2</td><td>2</td><td>2</td></tr> <tr><td>2</td><td>3</td><td>2</td></tr> <tr><td>2</td><td>2</td><td>2</td></tr> </table> Je hebt nog <b>8</b> blokken nodig.	2	2	2	2	3	2	2	2	2	bovenaanzicht met hoogtegetallen <table border="1" style="margin: 10px auto; border-collapse: collapse;"> <tr><td>3</td><td>1</td><td>4</td><td>3</td></tr> <tr><td>2</td><td>4</td><td>3</td><td>4</td></tr> <tr><td>2</td><td>1</td><td>4</td><td>2</td></tr> <tr><td>3</td><td>4</td><td>2</td><td>3</td></tr> </table> Je hebt nog <b>19</b> blokken nodig.	3	1	4	3	2	4	3	4	2	1	4	2	3	4	2	3
0	2																														
2	1																														
2	2	2																													
2	3	2																													
2	2	2																													
3	1	4	3																												
2	4	3	4																												
2	1	4	2																												
3	4	2	3																												

Ik vond de taak _____		<input type="checkbox"/> Ik maakte de taak alleen.  <input type="checkbox"/> Ik kreeg hulp. 
Opmerking ouders: _____		